

Nombre y Apellido:

Padrón:

A B 82.02

Correo electrónico:

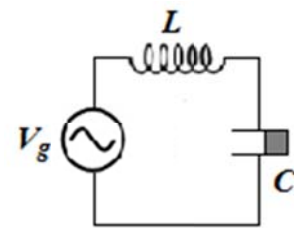
Turno:

Profesor:

1) Un conductor muy largo yace sobre el eje  $x$  de una terna  $xyz$  estándar. El mismo transporta una corriente de 10 A en la dirección positiva de  $x$ . A) Cómo debe ubicarse otro conductor muy largo, por el que circula una corriente de 10 A, para que el campo  $\vec{B}$  en el punto  $\vec{P} = 0\hat{i} + 0\hat{j} + 1\hat{k}$  valga:  $\vec{B} = (-3\hat{i} - 1\hat{j} + 0\hat{k}) \mu\text{T}$ . B) Una partícula de carga  $1 \mu\text{C}$  pasa por el punto P con velocidad  $\vec{v} = 1000 \text{ m/s } \hat{j}$ ; qué campo eléctrico debe existir para que la fuerza neta sobre la partícula se nula? ( $\mu_0 = 4\pi \times 10^{-7} \text{ T/Am}$ )

2) Dos espiras circulares concéntricas de radios  $R_1 = 20 \text{ cm}$  y  $R_2 = 2 \text{ mm}$  yacen en el plano  $xy$  con sus centros en el origen de coordenadas. En el instante inicial por la espira grande circula una corriente  $I_1 = 20 \text{ A}$  en sentido anti-horario y por la pequeña no circula corriente. En el instante  $t_0$  la espira pequeña comienza a moverse con velocidad  $\vec{v} = 10 \text{ m/s } \hat{k}$ . A) Determinar la fem inducida en  $t_0$  sobre la espira pequeña y la dirección en la que circula la corriente inducida. Considerar que sobre la superficie de la espira pequeña el campo debido a la espira grande es aproximadamente constante sobre la sección. B) Si la espira chica tiene una resistencia de  $1 \Omega$  determinar la energía disipada en la misma durante 1 s ( $\mu_0 = 4\pi \times 10^{-7} \text{ T/Am}$ ).

3) Un circuito  $LC$  serie está formado por una inductancia  $L = 1 \text{ mH}$  y un capacitor de placas planas paralelas cuadradas de lado  $a = 20 \text{ cm}$  y separación  $d = 1 \text{ mm}$ . El espacio entre placas está parcialmente ocupado por un aislante de  $\epsilon_r = 2$  como muestra la figura (zona gris). A) Qué parte del espacio entre las placas está ocupado por el aislante si la frecuencia de resonancia del circuito es  $f_0 = 218.5 \text{ kHz}$ . ( $\epsilon_0 = 8.85 \times 10^{-12} \text{ F/m}$ ). B) Si el capacitor es reemplazado por una resistencia  $R = |X_C|$ , cuál es el factor de potencia del circuito?



4) (Sólo F II A / 82.02) En el interior de una pared de concreto ( $\lambda = 1 \text{ W/(m K)}$ ) de espesor  $d = 10 \text{ cm}$  y área  $10 \text{ m}^2$  se mide un gradiente de temperatura de módulo  $100 \text{ K/m}$ . A) Determinar la cantidad de calor transferida por unidad de tiempo y la temperatura interna si la externa es de  $20^\circ\text{C}$ . B) El espesor de telgopor ( $\lambda = 0.03 \text{ W/(m K)}$ ) que debe agregarse para que la cantidad de calor transferida se reduzca a la centésima parte. No tomar en cuenta efectos de convección ni radiación.

5) (Sólo F II A / 82.02) Un recipiente cilíndrico de largo  $L = 50 \text{ cm}$  está cerrado con un pistón de radio  $R = 5 \text{ cm}$ . El recipiente contiene aire y está en equilibrio con el entorno a presión atmosférica ( $100 \text{ kPa}$ ) y temperatura de  $20^\circ\text{C}$ . Sobre el pistón se agrega lentamente  $20 \text{ kg}$  de arena al tiempo que se intercambia calor de forma que la temperatura permanece constante. A) Determinar el trabajo realizado. B) Repetir si ahora no hay calor intercambiado.  $R = 8.31 \text{ J/K}$

4) (Sólo F II B) Un capacitor  $C = 1000 \mu\text{F}$  tiene una carga inicial  $Q_0 = 0.1 \text{ C}$ . Se conecta en paralelo sobre este capacitor una resistencia  $R = 1 \text{ k}\Omega$ . A) Calcular la carga del capacitor luego de  $0.1 \text{ s}$ . B) Calcular la energía disipada en la resistencia durante dicho intervalo de tiempo.

5) (Sólo F II B) La energía almacenada en una inductancia  $L_1 = 1 \text{ mH}$  es de 2 mJ. Correspondientemente, para una inductancia  $L_2 = 4 \text{ mH}$  la energía almacenada es de 18 mJ. A) Las inductancias son acercadas hasta que el coeficiente de acoplamiento magnético es  $k = 0.5$ . Determinar la máxima y la mínima energía magnética almacenada en el conjunto. B) Ahora las inductancias son conectadas en serie, en configuración aditiva y con el mismo coeficiente de acoplamiento. Por las inductancias circula una corriente variable de forma tal que la caída de tensión sobre el conjunto vale  $V(t) = 12 \text{ V } e^{-t/1 \text{ ms}}$ . Calcular la corriente que circula si en  $t=0$  la misma vale 4 A.

Nombre y Apellido:

Padrón:

A B 82.02

Correo electrónico:

Turno:

Profesor:

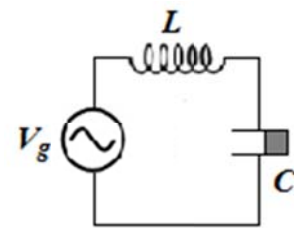
1) Un conductor muy largo yace sobre el eje  $x$  de una terna  $xyz$  estándar. El mismo transporta una corriente de 10 A en la dirección negativa de  $x$ . A) Cómo debe ubicarse otro conductor muy largo, por el que circula una corriente de 10 A, para que el campo  $\vec{B}$  en el punto  $\vec{P} = 0\hat{i} + 0\hat{j} + 1\hat{k}$  valga:

$\vec{B} = (3\hat{i} + 1\hat{j} + 0\hat{k}) \mu\text{T}$ . B) Una partícula de carga  $-1\mu\text{C}$  pasa por el punto P con velocidad

$\vec{v} = 1000 \text{ m/s } \hat{j}$ ; qué campo eléctrico debe existir para que la fuerza neta sobre la partícula se nula? ( $\mu_0 = 4\pi \times 10^{-7} \text{ T/Am}$ )

2) Dos espiras circulares concéntricas de radios  $R_1 = 20 \text{ cm}$  y  $R_2 = 2 \text{ mm}$  yacen en el plano  $xy$  con sus centros en el origen de coordenadas. En el instante inicial por la espira grande circula una corriente  $I_1 = 20 \text{ A}$  en sentido horario y por la pequeña no circula corriente. En el instante  $t_0$  la espira pequeña comienza a moverse con velocidad  $\vec{v} = 20 \text{ m/s } \hat{k}$ . A) Determinar la fem inducida en  $t_0$  sobre la espira pequeña y la dirección en la que circula la corriente inducida. Considerar que sobre la superficie de la espira pequeña el campo debido a la espira grande es aproximadamente constante sobre la sección. B) Si la espira chica tiene una resistencia de  $1 \Omega$  determinar la energía disipada en la misma durante 1 s ( $\mu_0 = 4\pi \times 10^{-7} \text{ T/Am}$ ).

3) Un circuito LC serie está formado por una inductancia  $L = 1 \text{ mH}$  y un capacitor de placas planas paralelas cuadradas de lado  $a = 20 \text{ cm}$  y separación  $d = 1 \text{ mm}$ . El espacio entre placas está parcialmente ocupado por un aislante de  $\epsilon_r = 2$  como muestra la figura (zona gris). A) Qué parte del espacio entre las placas está ocupado por el aislante si la frecuencia de resonancia del circuito es  $f_0 = 218.5 \text{ kHz}$ . ( $\epsilon_0 = 8.85 \times 10^{-12} \text{ F/m}$ ). B) Si el capacitor es reemplazado por una resistencia  $R = |X_C|$ , cuál es el factor de potencia del circuito?



4) (Sólo F II A / 82.02) En el interior de una pared de concreto ( $\lambda = 0.5 \text{ W/(m K)}$ ) de espesor  $d = 10 \text{ cm}$  y área  $20 \text{ m}^2$  se mide un gradiente de temperatura de módulo  $50 \text{ K/m}$ . A) Determinar la cantidad de calor transferida por unidad de tiempo y la temperatura interna si la externa es de  $20^\circ\text{C}$ . B) El espesor de telgopor ( $\lambda = 0.03 \text{ W/(m K)}$ ) que debe agregarse para que la cantidad de calor transferida se reduzca a la centésima parte. No tomar en cuenta efectos de convección ni radiación.

5) (Sólo F II A / 82.02) Un recipiente cilíndrico de largo  $L = 50 \text{ cm}$  está cerrado con un pistón de radio  $R = 5 \text{ cm}$ . El recipiente contiene aire y está en equilibrio con el entorno a presión atmosférica ( $100 \text{ kPa}$ ) y temperatura de  $40^\circ\text{C}$ . Sobre el pistón se agrega lentamente  $10 \text{ kg}$  de arena al tiempo que se intercambia calor de forma que la temperatura permanece constante. A) Determinar el trabajo realizado. B) Repetir si ahora no hay calor intercambiado.  $R = 8.31 \text{ J/K}$

4) (Sólo F II B) Un capacitor  $C = 2000 \mu\text{F}$  tiene una carga inicial  $Q_0 = 0.2 \text{ C}$ . Se conecta en paralelo sobre este capacitor una resistencia  $R = 1 \text{ k}\Omega$ . A) Calcular la carga del capacitor luego de  $0.2 \text{ s}$ . B) Calcular la energía disipada en la resistencia durante dicho intervalo de tiempo.

5) (Sólo F II B) La energía almacenada en una inductancia  $L_1 = 1 \text{ mH}$  es de 8 mJ. Correspondientemente, para una inductancia  $L_2 = 4 \text{ mH}$  la energía almacenada es de 36 mJ. A) Las inductancias son acercadas hasta que el coeficiente de acoplamiento magnético es  $k = 0.5$ . Determinar la máxima y la mínima energía magnética almacenada en el conjunto. B) Ahora las inductancias son conectadas en serie, en configuración aditiva y con el mismo coeficiente de acoplamiento. Por las inductancias circula una corriente variable de forma tal que la caída de tensión sobre el conjunto vale  $V(t) = 12 \text{ V } e^{-t/1 \text{ ms}}$ . Calcular la corriente que circula si en  $t=0$  la misma vale 8 A.

26/2/2015

1)  $\vec{B}(0,0,1) = (-3 \cdot 10^{-6}, -10^{-6}, 0) T$

a)  $\vec{B}_{\text{hilo 1}}(0,0,1) = (0, -\frac{\mu_0 \cdot 10A}{2\pi}, 0) T = (0, -2 \cdot 10^{-6}, 0) T$

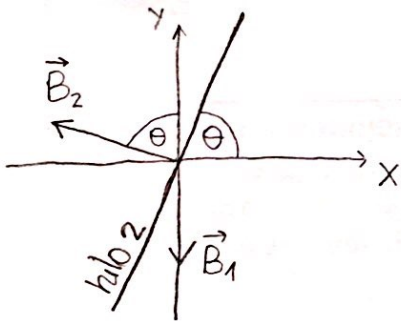
$$\rightarrow \vec{B}_{\text{hilo 2}} = (-3 \cdot 10^{-6}, -10^{-6}, 0) - (0, -\frac{\mu_0 \cdot 10A}{2\pi}, 0)$$

$$\vec{B}_{\text{hilo 2}} = (-3 \cdot 10^{-6}, 10^{-6}, 0) T$$

$$\Rightarrow B_{\text{hilo 2}} = \frac{\mu_0 \cdot 10A}{2\pi r} = \sqrt{(-3 \cdot 10^{-6})^2 + (10^{-6})^2} = 3,16 \cdot 10^{-6} T$$

$$\Rightarrow r = 0,63$$

$\Rightarrow$  el hilo 2 se ubica 0,63 por arriba o por debajo del hilo 1



$$\theta = \tan^{-1} \left( \frac{3 \cdot 10^{-6}}{10^{-6}} \right) = 71,57^\circ$$

si se encuentra 0,63 por debajo la corriente irá para abajo y si se encuentra 0,63 por arriba irá para arriba la corriente

b)  $q = 1 \cdot 10^{-6} C$

$$\vec{v} = 1000 \text{ m/s } \hat{j}$$

$$\vec{F} = q\vec{E} + q\vec{v} \times \vec{B} = 0$$

$$\vec{E} = -(\vec{v} \times \vec{B})$$

$$\vec{E} = -(1000 \text{ m/s } \hat{j} \times (-3 \cdot 10^{-6}, -10^{-6}, 0) T)$$

$$\vec{E} = -3 \cdot 10^{-3} \frac{N}{C} \hat{k}$$

$$2) R_1 = 0,2 \text{ m}$$

$$\vec{B}_{\text{espira 1}} = \frac{\mu_0}{4\pi} \int \frac{i d\vec{l} \times (\vec{r} - \vec{r}')}{|\vec{r} - \vec{r}'|^3}$$

$$a) R_2 = 2 \cdot 10^{-3} \text{ m}$$

$$I_1 = 20 \text{ A}$$

$$I = 20 \text{ A}$$

$$\vec{v}_2 = 10 \text{ m/s } \hat{k}$$

$$d\vec{l} = \rho d\varphi \hat{\varphi}$$

$$\vec{r} = (0, 0, vt)$$

$$\vec{r}' = \rho \hat{\rho}$$

$$\vec{B}_1 = \frac{\mu_0}{4\pi} \int_0^{2\pi} \frac{i \rho d\varphi \hat{\varphi} \times (-\rho \hat{\rho} + vt \hat{k})}{(\rho^2 + (vt)^2)^{3/2}}$$

se considera solo el campo en  $\hat{k}$  ya que  $R_2$  es muy pequeño

$$= \frac{\mu_0}{4\pi} \int_0^{2\pi} \frac{i \rho^2 d\varphi \hat{k} + i \rho vt d\varphi \hat{\rho}}{(\rho^2 + (vt)^2)^{3/2}}$$

$$= \frac{\mu_0 i \rho}{4\pi} \int_0^{2\pi} \frac{\rho d\varphi \hat{k} + vt (\cos\varphi \hat{i} + \sin\varphi \hat{j}) d\varphi}{(\rho^2 + (vt)^2)^{3/2}}$$

$$= \frac{\mu_0 i \rho}{4\pi (\rho^2 + (vt)^2)^{3/2}} \left( vt \left( \left( \sin\varphi \hat{i} \right)_0^{2\pi} + \left( -\cos\varphi \hat{j} \right)_0^{2\pi} \right) + \rho 2\pi \hat{k} \right)$$

$$= \frac{\mu_0 i \rho}{4\pi (\rho^2 + (vt)^2)^{3/2}} \cdot \rho 2\pi \hat{k} = \frac{\mu_0 i \rho^2 2\pi \hat{k}}{4\pi (\rho^2 + (vt)^2)^{3/2}} = \frac{\mu_0 \cdot 20 \text{ A} \cdot 0,2^2 \hat{k}}{2 (0,2^2 + (10t)^2)^{3/2}}$$

$$= \frac{5,03 \cdot 10^{-7} \hat{k} \text{ T}}{(0,04 + 100t^2)^{3/2}}$$

$$\Phi_{21} = \frac{5,03 \cdot 10^{-7}}{(0,04 + 100t^2)^{3/2}} \cdot \pi \cdot (2 \cdot 10^{-3} \text{ m})^2 = \frac{6,32 \cdot 10^{-12}}{(0,04 + 100t^2)^{3/2}} \text{ Wb}$$

$$\begin{aligned}
 \mathcal{E}_{\text{ind}} &= -\frac{d\phi}{dt} = -\frac{d}{dt} \left( \frac{6,32 \cdot 10^{-12}}{(0,04 + 100t^2)^{3/2}} \right) \\
 &= -6,32 \cdot 10^{-12} \cdot \frac{d}{dt} \left( (0,04 + 100t^2)^{-3/2} \right) \\
 &= -6,32 \cdot 10^{-12} \cdot \left( -\frac{3}{2} \right) (0,04 + 100t^2)^{-5/2} \cdot 200t \\
 &= \frac{1,896 \cdot 10^{-9} t}{(0,04 + 100t^2)^{5/2}} \text{ V}
 \end{aligned}$$

La corriente inducida irá en sentido antihorario. Esto lo sabemos por el signo de la fem inducida (que luego calculamos la corriente) y además se puede deducir ya que al alejarse, el flujo sobre la espira pequeña disminuye y ésta creará una corriente, que a su vez crea un campo, que se opone a este cambio de flujo, es decir, ayudando al campo de la espira grande a que no disminuya. Entonces como el campo inducido es hacia arriba, la corriente circulará en sentido antihorario.

**b)**  $R = 1 \Omega$

$$\frac{dU}{dt} = \frac{\mathcal{E}^2}{R} \Rightarrow \int_{U(0)}^{U(1)} dU = \int_0^1 \frac{\mathcal{E}^2}{R} dt \Rightarrow \Delta U = \int_0^1 \frac{3,59 \cdot 10^{-18} t^2}{(0,04 + 100t^2)^5} dt$$

$$3) L = 1 \cdot 10^{-3} \text{ H}$$

$$a = 0,2 \text{ m}, A = 0,04 \text{ m}^2$$

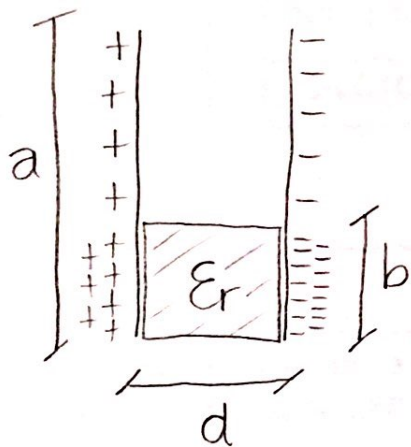
$$d = 1 \cdot 10^{-3} \text{ m}$$

$$\epsilon_r = 2$$

$$F_r = 218,5 \text{ kHz} = 218500 \text{ Hz}$$

$$F_r = \frac{1}{2\pi\sqrt{LC}} \rightarrow 218500 \text{ Hz} = \frac{1}{2\pi\sqrt{1 \cdot 10^{-3} \cdot C}}$$

$$\Rightarrow C = 5,31 \cdot 10^{-10} \text{ F}$$



$$q = \sigma_1 a(a-b) + \sigma_2 ab$$

$$\vec{D} = \begin{cases} \sigma_1 \hat{i}, & 0 < x < d, b < y < a \\ \sigma_2 \hat{i}, & 0 < x < d, 0 < y < b \end{cases}$$

$$\Rightarrow E_{1t} = E_{2t}$$

$$\vec{E} = \begin{cases} \sigma_1 / \epsilon_0 \hat{i}, & 0 < x < d, b < y < a \\ \sigma_2 / \epsilon_0 \epsilon_r \hat{i}, & 0 < x < d, 0 < y < b \end{cases}$$

$$\frac{\sigma_1}{\epsilon_0} = \frac{\sigma_2}{\epsilon_0 \epsilon_r}$$

$$\Delta V_1 = \Delta V_2 = - \int_0^d \vec{E} \cdot d\vec{l} = -E \cdot d$$

$$\Rightarrow \frac{-\sigma_1}{\epsilon_0} d = \frac{-\sigma_2}{\epsilon_0 \epsilon_r} d$$

$$C = \frac{q}{|\Delta V|} = \frac{\sigma_1 a(a-b) + \sigma_2 ab}{\frac{\sigma_1}{\epsilon_0} d = \frac{\sigma_2}{\epsilon_0 \epsilon_r} d} = \frac{\sigma_1 a(a-b)}{\frac{\sigma_1}{\epsilon_0} d} + \frac{\sigma_2 ab}{\frac{\sigma_2}{\epsilon_0 \epsilon_r} d}$$



$$C = \frac{\epsilon_0 a(a-b)}{d} + \frac{\epsilon_0 \epsilon_r ab}{d}$$

$$\Rightarrow 5,31 \cdot 10^{-10} \text{ F} = \frac{\epsilon_0 \cdot 0,2(0,2-b)}{10^{-3}} + \frac{\epsilon_0 2 \cdot 0,2 b}{10^{-3}}$$

$$\Rightarrow [b = 0,1 \text{ m}]$$

$$b) R = |X_c| = \frac{1}{\omega C} = 1371,75 \Omega$$

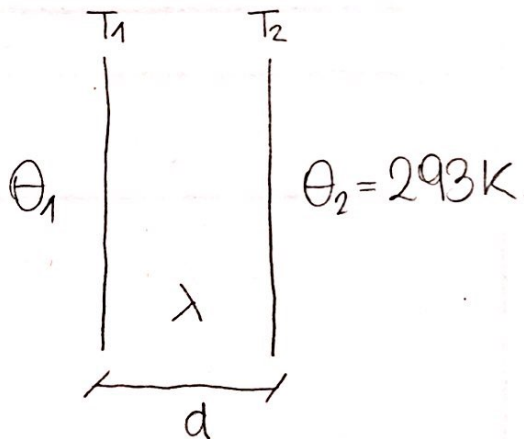
$$\left[ \text{Factor de potencia} = \cos \varphi = \frac{R}{|Z|} = \frac{R}{\sqrt{R^2 + (\omega L)^2}} = 0,71 \right]$$

$$4) \lambda = 1 \text{ W/mK}$$

$$a) d = 0,1 \text{ m}$$

$$A = 10 \text{ m}^2$$

$$|\vec{\nabla} T| = 100 \text{ K/m}$$



$$\vec{\nabla} T = \frac{T_2 - T_1}{d} = \frac{293 - T_1}{0,1}$$

$$\frac{\dot{Q}}{S} = -k \vec{\nabla} T$$

$$\dot{Q} = \frac{\lambda (T_1 - T_2) A}{d}$$

$$100 = \frac{293 - T_1}{0,1}$$

$$-100 = \frac{293 - T_1}{0,1}$$

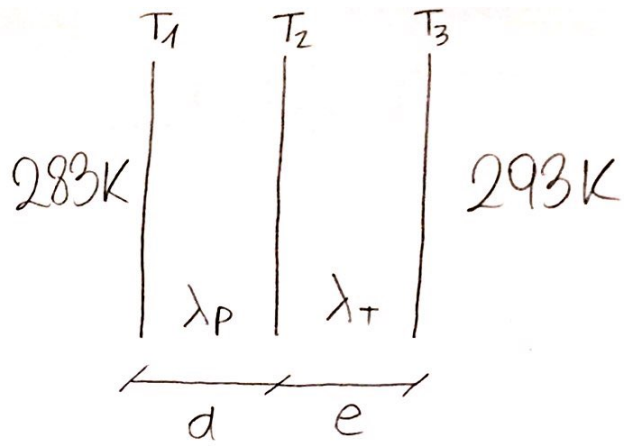
$$[T_1 = 283 \text{ K}]$$

$$T_1 = 303 \text{ K}$$

$$[\dot{Q} = -1000 \text{ W}]$$

$$b) \lambda_T = 0,03 \text{ W/mK}$$

$$\dot{Q} = -10 \text{ W}$$



$$\dot{Q} = \frac{\lambda_p S (T_1 - T_2)}{d}$$

$$\dot{Q} = \frac{\lambda_T S (T_2 - T_3)}{e}$$

$$\Rightarrow \dot{Q} \left( \frac{d}{\lambda_p S} + \frac{e}{\lambda_T S} \right) = T_1 - T_3$$

$$-10 \text{ W} \left( \frac{0,1 \text{ m}}{1 \frac{\text{W}}{\text{mK}} \cdot 10 \text{ m}^2} + \frac{e}{0,03 \frac{\text{W}}{\text{mK}} \cdot 10 \text{ m}^2} \right) = 283 \text{ K} - 293 \text{ K}$$

$$\Rightarrow [e = 0,297 \text{ m}]$$

$$5) L = 0,5 \text{ m}$$

se agregan lentamente 20kg

$$R = 0,05 \text{ m}$$

$$P = 100 \text{ kPa} = 1 \text{ atm}$$

$$T = 293 \text{ K}$$

$$P_1 = 1 \text{ atm}$$

$$\Rightarrow n = 0,16 \text{ mol}$$

$$T_1 = 293 \text{ K}$$

$$V_1 = \pi (0,05)^2 \cdot 0,5 = 3,93 \cdot 10^{-3} \text{ m}^3 = 3,93 \text{ l}$$

$$P_2 = 1 \text{ atm} + \frac{200 \text{ N}}{\pi \cdot 0,05^2}$$

$$\Rightarrow P_2 = 1 \text{ atm} + 0,251 \text{ atm} = 1,251 \text{ atm}$$

$$T_2 = 293 \text{ K}$$

$$V_2 = \frac{T_2 n R}{P_2} = 3,07 \text{ l}$$

$$\begin{aligned}
 \text{a) } W &= \int_{V_1}^{V_2} \frac{nRT}{V} dV = \int_{V_1}^{V_2} \frac{nRT}{V} dV = nRT \ln\left(\frac{V_2}{V_1}\right) \\
 &= 0,16 \cdot 0,082 \cdot 293 \cdot \ln\left(\frac{3,07}{3,93}\right) = -0,95 \text{ atm.l} \\
 &= [-96,27 \text{ J}]
 \end{aligned}$$

$$\text{b) } W = -nC_V \Delta T$$

$$P_1 = 1 \text{ atm} \quad T_1 = 293 \text{ K} \quad V_1 = 3,93 \text{ l} \quad n = 0,16 \text{ mol}$$

$$P_2 = 1,251 \text{ atm}$$

$$P_1 V_1^\gamma = P_2 V_2^\gamma \rightarrow 1 \text{ atm} \cdot (3,93 \text{ l})^{7/5} = 1,251 \text{ atm} \cdot V_2^{7/5}$$

$$V_2 = 3,35 \text{ l}$$

$$\Rightarrow T_2 = 319,42 \text{ K}$$

$$[W = -0,16 \cdot \frac{5}{2} \cdot 8,31 \cdot (319,42 - 293) = -87,82 \text{ J}]$$

**4)**

$$\begin{aligned}
 C &= 1 \cdot 10^{-3} \text{ F} \\
 Q_0 &= 0,1 \text{ C} \\
 R &= 1000 \Omega
 \end{aligned}$$

$$R \cdot i(t) = -\frac{q(t)}{C}$$

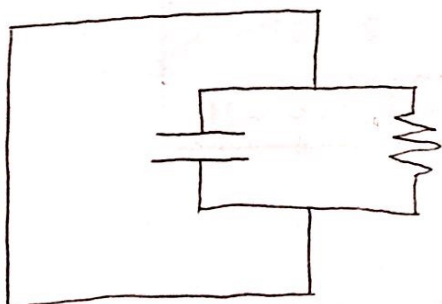
$$i = -\frac{dq}{dt}$$

$$0 = \frac{q(t)}{C} + R \frac{dq(t)}{dt}$$

$$q(t) = q_h(t) + q_p(t)$$

$$q_p(t) \rightarrow 0 = \frac{q_p(t)}{C} \Rightarrow q_p(t) = 0$$

$$q_h(t) \rightarrow 0 = \frac{q_h(t)}{C} + R \frac{dq_h(t)}{dt}$$



$$-\frac{dq_h(t)}{C} = R \frac{dq_h(t)}{dt}$$

$$\int \frac{-dt}{RC} = \int \frac{dq_h(t)}{q_h(t)}$$

$$k - \frac{t}{RC} = \ln(q_h(t)) \rightarrow e^k \cdot e^{-t/RC} = q_h(t)$$

$$\Rightarrow q(t) = k e^{-t/RC}$$

$$\text{como } q(0) = 0,1C \Rightarrow 0,1 = k e^0 \Rightarrow k = 0,1$$

$$\Rightarrow q(t) = 0,1 e^{-t/RC}$$

$$q(0,1s) = 0,1 \cdot e^{-0,1/(1000\Omega \cdot 10^{-3}F)}$$
$$= \cancel{0,11C} = 0,09C$$

$$5) L_1 = 10^{-3} \text{ H}$$

$$k = 0,5$$

$$a) U_1 = 2 \cdot 10^{-3} \text{ J}$$

$$M = 0,5 \sqrt{L_1 L_2}$$

$$L_2 = 4 \cdot 10^{-3} \text{ H}$$

$$M = 10^{-3} \text{ H}$$

$$U_2 = 18 \cdot 10^{-3} \text{ J}$$

$$U_1 = \frac{1}{2} i_1^2 L_1 \rightarrow 2 \cdot 10^{-3} = \frac{1}{2} 10^{-3} i_1^2 \rightarrow i_1 = 2 \text{ A}$$

$$U_2 = \frac{1}{2} i_2^2 L_2 \rightarrow 18 \cdot 10^{-3} = \frac{1}{2} \cdot 4 \cdot 10^{-3} i_2^2 \rightarrow i_2 = 3 \text{ A}$$

$$\left[ U_T = \frac{1}{2} L_1 i_1^2 + \frac{1}{2} L_2 i_2^2 + M i_1 i_2 = 0,026 \text{ J} \rightarrow \text{MAX} \right]$$

$$\left[ U_T = \frac{1}{2} L_1 i_1^2 + \frac{1}{2} L_2 i_2^2 = 0,02 \text{ J} \rightarrow \text{MIN} \right]$$

$$b) L_1 = 10^{-3} \text{ H}$$

$$L_2 = 4 \cdot 10^{-3} \text{ H}$$

$$M = 10^{-3} \text{ H}$$



$$L_{\text{eff}} = L_1 + L_2 + 2M$$

$$V(t) = V_L = L_{\text{eff}} \frac{di(t)}{dt}$$

$$12 \text{ V} e^{-t/10^{-3} \text{ s}} = (10^{-3} + 4 \cdot 10^{-3} + 2 \cdot 10^{-3}) \frac{di(t)}{dt}$$

$$\Rightarrow 1714,29 e^{-t/10^{-3}} = \frac{di(t)}{dt} \Rightarrow \int 1714,29 e^{-t/10^{-3}} dt = \int di(t)$$

$$\Rightarrow -10^{-3} \cdot 1714,29 e^{-t/10^{-3}} + k = i(t)$$

$$i(t) = -1,71e^{t/10^{-3}} + K$$

$$i(0) = 4A = -1,71 + K \rightarrow K = 5,71 A$$

$$\Rightarrow [i(t) = -1,71Ae^{t/10^{-3}} + 5,71A]$$